

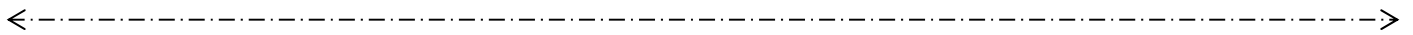
天主教聖安德肋小學
數學挑戰站(二)

姓名：_____ () 班別：_____ 日期：_____

初級組(P. 1~P. 2)

今天，立勤跟爺爺去釣魚，回家後，媽媽問他：「你今天釣了多少尾魚？」立勤說：「我捕得無頭的六，無尾的九，八的一半。」究竟立勤釣了多少尾魚？

答案： 0 尾。



天主教聖安德肋小學
數學挑戰站(二)

姓名：_____ () 班別：_____ 日期：_____

初級組(P. 1~P. 2)

今天，立勤跟爺爺去釣魚，回家後，媽媽問他：「你今天釣了多少尾魚？」立勤說：「我捕得無頭的六，無尾的九，八的一半。」究竟立勤釣了多少尾魚？

答案： 0 尾。




天主教聖安德肋小學
數學挑戰站(二)

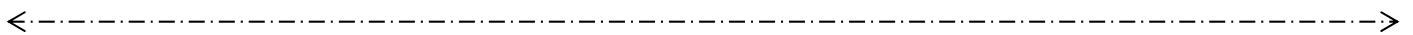
姓名：_____ () 班別：_____ 日期：_____

中級組(P. 3~P. 4)

把一個西瓜切3刀，最多可切成多少塊？



答： 8 塊




天主教聖安德肋小學
數學挑戰站(二)

姓名：_____ () 班別：_____ 日期：_____

中級組(P. 3~P. 4)

把一個西瓜切3刀，最多可切成多少塊？



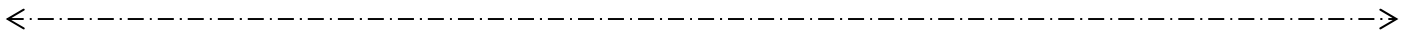

答： 8 塊

天主教聖安德肋小學
數學挑戰站(二)

姓名：_____ () 班別：_____ 日期：_____
高級組(P. 5~P. 6)

榮恩有一套玩具賽車，紅色車每分鐘跑 4 個圈，藍色車跑 3 個圈，綠色車跑 2 個圈。三輛車一起從起點開動，要多少分鐘後這三輛車才第 5 次一起衝過起點？

$12 \times 5 = 60$ 分鐘



天主教聖安德肋小學
數學挑戰站(二)

姓名：_____ () 班別：_____ 日期：_____
高級組(P. 5~P. 6)

榮恩有一套玩具賽車，每分鐘紅色車跑 4 個圈，藍色車跑 3 個圈，綠色車跑 2 個圈。三輛車一起從起點開動，要多少分鐘後這三輛車才第 5 次一起衝過起點？

$12 \times 5 = 60$ 分鐘

